

**Основной государственный экзамен по МАТЕМАТИКЕ****Пояснения к демонстрационному варианту  
контрольных измерительных материалов  
основного государственного экзамена 2024 года  
по МАТЕМАТИКЕ**

При ознакомлении с демонстрационным вариантом 2024 г. следует иметь в виду, что задания, включённые в демонстрационный вариант, не отражают всех элементов содержания, которые будут проверяться с помощью вариантов КИМ в 2024 г. Полный перечень элементов содержания, которые могут контролироваться на экзамене 2024 г., приведён в кодификаторе проверяемых требований к результатам освоения основной образовательной программы основного общего образования и элементов содержания для проведения основного государственного экзамена по математике, размещённом на сайте: [www.fipi.ru](http://www.fipi.ru).



**В демонстрационном варианте представлены конкретные примеры заданий, не исчерпывающие всего многообразия возможных формулировок заданий на каждой позиции варианта экзаменационной работы.**  
**Все задания, используемые для составления экзаменационных вариантов, размещены в открытом банке заданий ОГЭ на сайте [fipi.ru](http://fipi.ru).**

Демонстрационный вариант предназначен для того, чтобы дать возможность любому участнику экзамена и широкой общественности составить представление о структуре будущей экзаменационной работы, количестве и форме заданий, а также об их уровне сложности.

Приведённые критерии оценивания выполнения заданий с развёрнутым ответом, включённые в этот вариант, позволят составить представление о требованиях к полноте и правильности записи развёрнутого ответа.

Эти сведения дают будущим участникам экзамена возможность выработать стратегию подготовки к сдаче экзамена по математике.

**«УТВЕРЖДАЮ»**

Директор

ФГБНУ «Федеральный институт  
педагогических измерений»

О.А. Решетникова

«10» ноября 2023 г.

**«СОГЛАСОВАНО»**

Председатель

Научно-методического совета  
ФГБНУ «ФИПИ» по математике

Д.В. Ливанов

«10» ноября 2023 г.

**Государственная итоговая аттестация по образовательным  
программам основного общего образования в форме  
основного государственного экзамена (ОГЭ)****Демонстрационный вариант  
контрольных измерительных материалов основного  
государственного экзамена 2024 года  
по МАТЕМАТИКЕ**

подготовлен федеральным государственным бюджетным  
научным учреждением  
«ФЕДЕРАЛЬНЫЙ ИНСТИТУТ ПЕДАГОГИЧЕСКИХ ИЗМЕРЕНИЙ»

## СПРАВОЧНЫЕ МАТЕРИАЛЫ ПО МАТЕМАТИКЕ

## АЛГЕБРА

- Формула корней квадратного уравнения:

$$x = \frac{-b \pm \sqrt{D}}{2a}, \text{ где } D = b^2 - 4ac.$$

- Если квадратный трёхчлен  $ax^2 + bx + c$  имеет два корня  $x_1$  и  $x_2$ , то

$$ax^2 + bx + c = a(x - x_1)(x - x_2);$$

если квадратный трёхчлен  $ax^2 + bx + c$  имеет единственный корень  $x_0$ ,  
то

$$ax^2 + bx + c = a(x - x_0)^2.$$

- Абсцисса вершины параболы, заданной уравнением  $y = ax^2 + bx + c$ :

$$x_0 = -\frac{b}{2a}.$$

- Формула  $n$ -го члена арифметической прогрессии  $(a_n)$ , первый член которой равен  $a_1$  и разность равна  $d$ :

$$a_n = a_1 + d(n - 1).$$

- Формула суммы первых  $n$  членов арифметической прогрессии:

$$S_n = \frac{(a_1 + a_n)n}{2}.$$

- Формула  $n$ -го члена геометрической прогрессии  $b_n$ , первый член которой равен  $b_1$ , а знаменатель равен  $q$ :

$$b_n = b_1 \cdot q^{n-1}$$

- Формула суммы первых  $n$  членов геометрической прогрессии:

$$S_n = \frac{(q^n - 1)b_1}{q - 1}.$$

- Формулы сокращённого умножения:

$$(a + b)^2 = a^2 + 2ab + b^2;$$

$$(a - b)^2 = a^2 - 2ab + b^2;$$

$$a^2 - b^2 = (a - b)(a + b).$$

- Свойства арифметического квадратного корня:

$$\sqrt{ab} = \sqrt{a} \cdot \sqrt{b} \text{ при } a \geq 0, b \geq 0;$$

$$\sqrt{\frac{a}{b}} = \frac{\sqrt{a}}{\sqrt{b}} \text{ при } a \geq 0, b > 0.$$

- Свойства степени при  $a > 0, b > 0$

$$a^{-n} = \frac{1}{a^n};$$

$$a^n \cdot a^m = a^{n+m};$$

$$\frac{a^n}{a^m} = a^{n-m};$$

$$(a^n)^m = a^{nm};$$

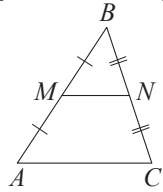
$$(ab)^n = a^n \cdot b^n;$$

$$\left(\frac{a}{b}\right)^n = \frac{a^n}{b^n}.$$

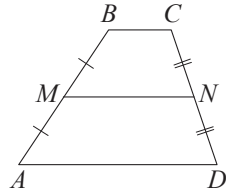
ГЕОМЕТРИЯ

Сумма углов выпуклого  $n$ -угольника равна  $180^\circ(n-2)$ .

Средняя линия треугольника и трапеции

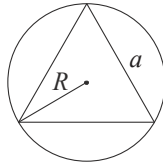


$MN$  – ср. лин.  
 $MN \parallel AC$   
 $MN = \frac{AC}{2}$

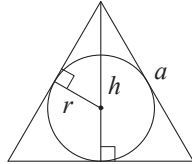


$BC \parallel AD$   
 $MN$  – ср. лин.  
 $MN \parallel AD$   
 $MN = \frac{BC + AD}{2}$

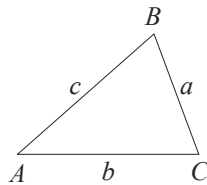
Описанная и вписанная окружности правильного треугольника



$R = \frac{a\sqrt{3}}{3}$   
 $S = \frac{a^2\sqrt{3}}{4}$



$r = \frac{a\sqrt{3}}{6}$   
 $h = \frac{a\sqrt{3}}{2}$



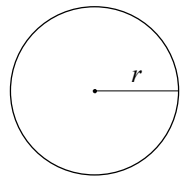
Для треугольника  $ABC$  со сторонами  $AB = c$ ,  $AC = b$ ,  $BC = a$ :

$$\frac{a}{\sin A} = \frac{b}{\sin B} = \frac{c}{\sin C} = 2R,$$

где  $R$  – радиус описанной окружности.

Для треугольника  $ABC$  со сторонами  $AB = c$ ,  $AC = b$ ,  $BC = a$ :

$$c^2 = a^2 + b^2 - 2ab \cos C.$$

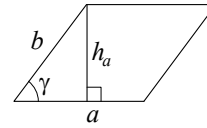


Длина окружности  $C = 2\pi r$

Площадь круга  $S = \pi r^2$

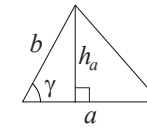
Площади фигур

Параллелограмм



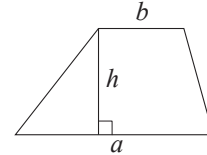
$S = ah_a$   
 $S = ab \sin \gamma$

Треугольник



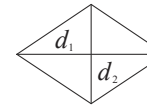
$S = \frac{1}{2}ah_a$   
 $S = \frac{1}{2}ab \sin \gamma$

Трапеция



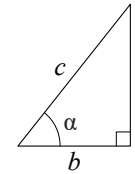
$S = \frac{a+b}{2} \cdot h$

Ромб



$d_1, d_2$  – диагонали  
 $S = \frac{1}{2}d_1d_2$

Прямоугольный треугольник



$\sin \alpha = \frac{a}{c}$   
 $\cos \alpha = \frac{b}{c}$   
 $\operatorname{tg} \alpha = \frac{a}{b}$

Теорема Пифагора:  $a^2 + b^2 = c^2$

Основное тригонометрическое тождество:  $\sin^2 \alpha + \cos^2 \alpha = 1$

Некоторые значения тригонометрических функций

$\alpha$	градусы	$0^\circ$	$30^\circ$	$45^\circ$	$60^\circ$	$90^\circ$	$180^\circ$	$270^\circ$	$360^\circ$
$\sin \alpha$		0	$\frac{1}{2}$	$\frac{\sqrt{2}}{2}$	$\frac{\sqrt{3}}{2}$	1	0	-1	0
$\cos \alpha$		1	$\frac{\sqrt{3}}{2}$	$\frac{\sqrt{2}}{2}$	$\frac{1}{2}$	0	-1	0	1
$\operatorname{tg} \alpha$		0	$\frac{\sqrt{3}}{3}$	1	$\sqrt{3}$	-	0	-	0

**Демонстрационный вариант  
контрольных измерительных материалов  
основного государственного экзамена 2024 года  
по МАТЕМАТИКЕ**

**Инструкция по выполнению работы**

Экзаменационная работа состоит из двух частей, включающих в себя 25 заданий. Часть 1 содержит 19 заданий, часть 2 содержит 6 заданий с развёрнутым ответом.

На выполнение экзаменационной работы по математике отводится 3 часа 55 минут (235 минут).

Ответы к заданиям 7 и 13 запишите в бланк ответов № 1 в виде одной цифры, которая соответствует номеру правильного ответа.

Для остальных заданий части 1 ответом является число или последовательность цифр. Ответ запишите в поле ответа в тексте работы, а затем перенесите в бланк ответов № 1. Если получилась обыкновенная дробь, ответ запишите в виде десятичной.

Решения заданий части 2 и ответы к ним запишите на бланке ответов № 2. Задания можно выполнять в любом порядке. Текст задания переписывать не надо, необходимо только указать его номер.

Все бланки заполняются яркими чёрными чернилами. Допускается использование гелевой или капиллярной ручки.

Сначала выполняйте задания части 1. Начать советуем с тех заданий, которые вызывают у Вас меньше затруднений, затем переходите к другим заданиям. Для экономии времени пропускайте задание, которое не удаётся выполнить сразу, и переходите к следующему. Если у Вас останется время, Вы сможете вернуться к пропущенным заданиям.

При выполнении части 1 все необходимые вычисления, преобразования выполняйте в черновике. **Записи в черновике, а также в тексте контрольных измерительных материалов не учитываются при оценивании работы.**

Если задание содержит рисунок, то на нём непосредственно в тексте работы можно выполнять необходимые Вам построения. Рекомендуем внимательно читать условие и проводить проверку полученного ответа.

При выполнении работы Вы можете воспользоваться справочными материалами, выданными вместе с вариантом КИМ, линейкой и непрограммируемым калькулятором.

Баллы, полученные Вами за выполненные задания, суммируются. Постарайтесь выполнить как можно больше заданий и набрать наибольшее количество баллов.

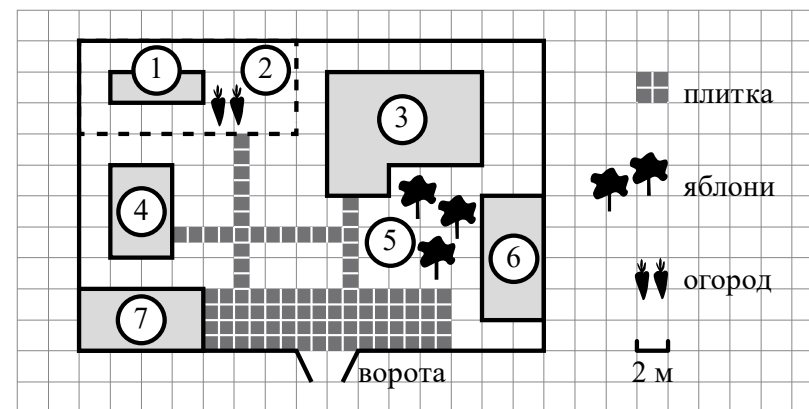
После завершения работы проверьте, чтобы ответ на каждое задание в бланках ответов № 1 и № 2 был записан под правильным номером.

**Желаем успеха!**

**Часть 1**

*Ответами к заданиям 1–19 являются число или последовательность цифр, которые следует записать в БЛАНК ОТВЕТОВ № 1 справа от номера соответствующего задания, начиная с первой клеточки. Если ответом является последовательность цифр, то запишите её без пробелов и других дополнительных символов. Каждый символ пишите в отдельной клеточке в соответствии с приведёнными в бланке образцами.*

**Прочитайте внимательно текст и выполните задания 1–5.**



На плане изображено домохозяйство по адресу: с. Авдеево, 3-й Поперечный пер., д. 13 (сторона каждой клетки на плане равна 2 м). Участок имеет прямоугольную форму. Выезд и въезд осуществляются через единственные ворота.

При входе на участок справа от ворот находится баня, а слева – гараж, отмеченный на плане цифрой 7. Площадь, занятая гаражом, равна 32 кв. м.

Жилой дом находится в глубине территории. Помимо гаража, жилого дома и бани, на участке имеется сарай (подсобное помещение), расположенный рядом с гаражом, и теплица, построенная на территории огорода (огород отмечен цифрой 2). Перед жилым домом имеются яблоневые посадки.

Все дорожки внутри участка имеют ширину 1 м и вымощены тротуарной плиткой размером 1 м × 1 м. Между баней и гаражом имеется площадка площадью 64 кв. м, вымощенная такой же плиткой.

К домохозяйству подведено электричество. Имеется магистральное газоснабжение.

- 1 Для объектов, указанных в таблице, определите, какими цифрами они обозначены на плане. Заполните таблицу, в бланк ответов перенесите последовательность четырёх цифр.

Объекты	Жилой дом	Сарай	Баня	Теплица
Цифры				

- 2 Тротуарная плитка продаётся в упаковках по 4 штуки. Сколько упаковок плитки понадобилось купить, чтобы выложить все дорожки и площадку перед гаражом?

Ответ: \_\_\_\_\_.

- 3 Найдите площадь, которую занимает жилой дом. Ответ дайте в квадратных метрах.

Ответ: \_\_\_\_\_.

- 4 Найдите расстояние от жилого дома до гаража (расстояние между двумя ближайшими точками по прямой) в метрах.

Ответ: \_\_\_\_\_.

- 5 Хозяин участка планирует устроить в жилом доме зимнее отопление. Он рассматривает два варианта: электрическое или газовое отопление. Цены на оборудование и стоимость его установки, данные о расходе газа, электроэнергии и их стоимости даны в таблице.

	Нагреватель (котёл)	Прочее оборудование и монтаж	Сред. расход газа / сред. потребл. мощность	Стоимость газа / электроэнергии
Газовое отопление	24 тыс. руб.	18 280 руб.	1,2 куб. м/ч	5,6 руб./куб. м
Электр. отопление	20 тыс. руб.	15 000 руб.	5,6 кВт	3,8 руб./кВт·ч


Обдумав оба варианта, хозяин решил установить газовое оборудование. Через сколько часов непрерывной работы отопления экономия от использования газа вместо электричества компенсирует разность в стоимости установки газового и электрического отопления?

Ответ: \_\_\_\_\_.

- 6 Найдите значение выражения  $\frac{5}{6} - \frac{3}{14}$ . Представьте результат в виде несократимой обыкновенной дроби. В ответ запишите числитель этой дроби.

Ответ: \_\_\_\_\_.

- 7 На координатной прямой отмечена точка  $A$ .



Известно, что она соответствует одному из четырёх указанных ниже чисел. Какому из чисел соответствует точка  $A$ ?

- 1)  $\frac{181}{16}$       2)  $\sqrt{37}$       3) 0,6      4) 4

Ответ:

8 Найдите значение выражения  $a^{-7} \cdot (a^5)^2$  при  $a=5$ .

Ответ: \_\_\_\_\_.

9 Решите уравнение  $x^2 + x - 12 = 0$ .

Если уравнение имеет более одного корня, в ответ запишите больший из корней.

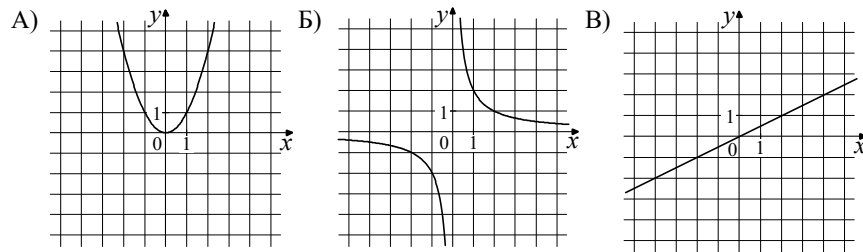
Ответ: \_\_\_\_\_.

10 На тарелке лежат пирожки, одинаковые на вид: 4 с мясом, 8 с капустой и 3 с яблоками. Петя наугад выбирает один пирожок. Найдите вероятность того, что пирожок окажется с яблоками.

Ответ: \_\_\_\_\_.

11 Установите соответствие между графиками функций и формулами, которые их задают.

ГРАФИКИ



ФОРМУЛЫ

- 1)  $y = x^2$                       2)  $y = \frac{x}{2}$                       3)  $y = \frac{2}{x}$

В таблице под каждой буквой укажите соответствующий номер.

Ответ:

А	Б	В

12 Чтобы перевести значение температуры по шкале Цельсия в шкалу Фаренгейта, пользуются формулой  $t_F = 1,8t_C + 32$ , где  $t_C$  – температура в градусах Цельсия,  $t_F$  – температура в градусах Фаренгейта. Скольким градусам по шкале Фаренгейта соответствует  $-25$  градусов по шкале Цельсия?

Ответ: \_\_\_\_\_.

13 Укажите решение системы неравенств

$$\begin{cases} x + 2,6 \leq 0, \\ x + 5 \geq 1. \end{cases}$$

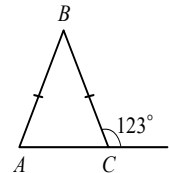


Ответ:

14 Вика решила начать делать зарядку каждое утро. В первый день она сделала 30 приседаний, а в каждый следующий день она делала на одно и то же количество приседаний больше, чем в предыдущий день. За 15 дней она сделала всего 975 приседаний. Сколько приседаний сделала Вика на пятый день?

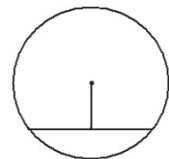
Ответ: \_\_\_\_\_.

15 В равнобедренном треугольнике  $ABC$  с основанием  $AC$  внешний угол при вершине  $C$  равен  $123^\circ$ . Найдите величину угла  $BAC$ . Ответ дайте в градусах.



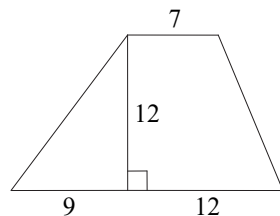
Ответ: \_\_\_\_\_.

16 Найдите длину хорды окружности радиусом 13, если расстояние от центра окружности до хорды равно 5.



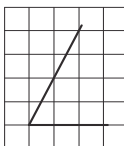
Ответ: \_\_\_\_\_.

- 17 Найдите площадь трапеции, изображённой на рисунке.



Ответ: \_\_\_\_\_.

- 18 Найдите тангенс острого угла, изображённого на рисунке.



Ответ: \_\_\_\_\_.

- 19 Какие из следующих утверждений верны?

- 1) Через точку, не лежащую на данной прямой, можно провести прямую, параллельную этой прямой.
- 2) Треугольник со сторонами 1, 2, 4 существует.
- 3) В любом параллелограмме есть два равных угла.

В ответе запишите номера выбранных утверждений без пробелов, запятых и других дополнительных символов.

Ответ: \_\_\_\_\_.



**Не забудьте перенести все ответы в бланк ответов №1 в соответствии с инструкцией по выполнению работы. Проверьте, чтобы каждый ответ был записан в строке с номером соответствующего задания.**

## Часть 2

**При выполнении заданий 20–25 используйте БЛАНК ОТВЕТОВ №2. Сначала укажите номер задания, а затем запишите его решение и ответ. Пишите чётко и разборчиво.**

- 20 Решите уравнение  $x^4 = (4x - 5)^2$ .

- 21 Рыболов в 5 часов утра на моторной лодке отправился от пристани против течения реки, через некоторое время бросил якорь, 2 часа ловил рыбу и вернулся обратно в 10 часов утра того же дня. На какое расстояние от пристани он отплыл, если скорость течения реки равна 2 км/ч, а собственная скорость лодки равна 6 км/ч?

- 22 Постройте график функции  $y = \frac{x^4 - 13x^2 + 36}{(x-3)(x+2)}$  и определите, при каких значениях  $c$  прямая  $y=c$  имеет с графиком ровно одну общую точку.

- 23 В прямоугольном треугольнике  $ABC$  с прямым углом  $C$  известны катеты:  $AC=6$ ,  $BC=8$ . Найдите медиану  $CK$  этого треугольника.

- 24 В параллелограмме  $ABCD$  точка  $E$  – середина стороны  $AB$ . Известно, что  $EC=ED$ . Докажите, что данный параллелограмм – прямоугольник.

- 25 Основание  $AC$  равнобедренного треугольника  $ABC$  равно 12. Окружность радиусом 8 с центром вне этого треугольника касается продолжений боковых сторон треугольника и касается основания  $AC$ . Найдите радиус окружности, вписанной в треугольник  $ABC$ .



**Проверьте, чтобы каждый ответ был записан рядом с номером соответствующего задания.**

## Система оценивания экзаменационной работы по математике

## Часть 1

За правильный ответ на каждое из заданий 1–19 ставится 1 балл.  
Порядок записи цифр в ответе на задание 19 значения не имеет.

Номер задания	Правильный ответ
1	3461
2	23
3	68
4	10
5	500
6	13
7	2
8	125
9	3
10	0,2
11	132
12	–13
13	2
14	50
15	57
16	24
17	168
18	2
19	13

Критерии оценивания выполнения заданий с развёрнутым ответом  
Часть 2

Общие требования к выполнению заданий с развёрнутым ответом: решение должно быть математически грамотным, полным; из него должен быть понятен ход рассуждений экзаменуемого. **Методы решения, формы его записи и формы записи ответа могут быть разными.** Полнота и обоснованность рассуждений оцениваются независимо от выбранного метода решения. При этом оценивается продвижение участника экзамена в решении задачи, а не недочёты по сравнению с «эталонным» решением.

**Эксперты проверяют только математическое содержание представленного решения, а особенности записи не учитывают.**

При выполнении задания могут использоваться без доказательства и ссылок любые математические факты, содержащиеся в учебниках, входящих в федеральный перечень учебников, допущенных к использованию при реализации имеющих государственную аккредитацию образовательных программ основного общего образования.

**20** Решите уравнение  $x^4 = (4x - 5)^2$ .

Решение.

Исходное уравнение приводится к виду:

$$(x^2 - 4x + 5)(x^2 + 4x - 5) = 0.$$

Уравнение  $x^2 - 4x + 5 = 0$  не имеет корней.

Уравнение  $x^2 + 4x - 5 = 0$  имеет корни  $-5$  и  $1$ .

Ответ:  $-5$ ;  $1$ .

Критерии оценивания выполнения задания	Баллы
Обоснованно получен верный ответ	2
Решение доведено до конца, но допущена арифметическая ошибка, с её учётом дальнейшие шаги выполнены верно	1
Решение не соответствует ни одному из критериев, перечисленных выше	0
<i>Максимальный балл</i>	2



- 21** Рыболов в 5 часов утра на моторной лодке отправился от пристани против течения реки, через некоторое время бросил якорь, 2 часа ловил рыбу и вернулся обратно в 10 часов утра того же дня. На какое расстояние от пристани он отплыл, если скорость реки равна 2 км/ч, а собственная скорость лодки равна 6 км/ч?

Решение.

Пусть искомое расстояние равно  $x$  км. Скорость лодки при движении против течения равна 4 км/ч, при движении по течению равна 8 км/ч. Время, за которое лодка доплывёт от места отправления до места назначения и обратно, равно  $\left(\frac{x}{4} + \frac{x}{8}\right)$  часа. Из условия задачи следует, что это время равно 3 часам. Составим уравнение:  $\frac{x}{4} + \frac{x}{8} = 3$ .

Решив уравнение, получим  $x = 8$ .

Ответ: 8 км.

Критерии оценивания выполнения задания	Баллы
Ход решения задачи верный, получен верный ответ	2
Ход решения верный, все его шаги присутствуют, но допущена арифметическая ошибка	1
Решение не соответствует ни одному из критериев, перечисленных выше	0
<i>Максимальный балл</i>	2

- 22** Постройте график функции  $y = \frac{x^4 - 13x^2 + 36}{(x-3)(x+2)}$  и определите, при каких значениях  $c$  прямая  $y = c$  имеет с графиком ровно одну общую точку.

Решение.

Разложим числитель дроби на множители:

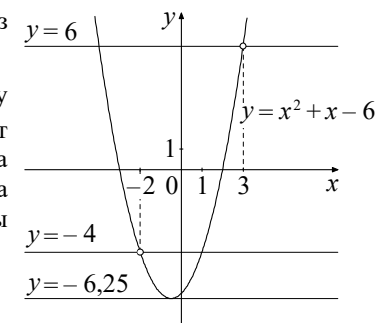
$$x^4 - 13x^2 + 36 = (x^2 - 4)(x^2 - 9) = (x-2)(x+2)(x-3)(x+3).$$

При  $x \neq -2$  и  $x \neq 3$  функция принимает вид:

$y = x^2 + x - 6$ ; её график – парабола, из которой выколоты точки  $(-2; -4)$  и  $(3; 6)$ .

Прямая  $y = c$  имеет с графиком ровно одну общую точку либо тогда, когда проходит через вершину параболы, либо тогда, когда пересекает параболу в двух точках, одна из которых выколота. Вершина параболы имеет координаты  $(-0,5; -6,25)$ .

Поэтому  $c = -6,25$ ,  $c = -4$  или  $c = 6$ .



Ответ:  $c = -6,25$ ,  $c = -4$ ,  $c = 6$ .

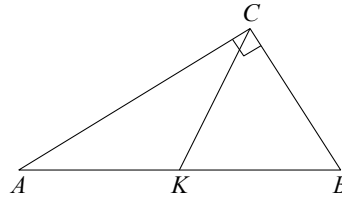
Критерии оценивания выполнения задания	Баллы
График построен верно, верно найдены искомые значения параметра	2
График построен верно, но искомые значения параметра найдены неверно или не найдены	1
Решение не соответствует ни одному из критериев, перечисленных выше	0
<i>Максимальный балл</i>	2

- 23** В прямоугольном треугольнике  $ABC$  с прямым углом  $C$  известны катеты:  $AC=6$ ,  $BC=8$ . Найдите медиану  $CK$  этого треугольника.

Решение.

$$CK = \frac{1}{2} AB = \frac{1}{2} \sqrt{AC^2 + BC^2} = \frac{1}{2} \sqrt{36 + 64} = 5.$$

Ответ: 5.

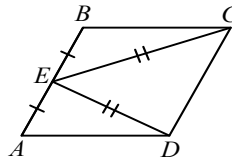


Критерии оценивания выполнения задания	Баллы
Ход решения верный, все его шаги выполнены правильно, получен верный ответ	2
Ход решения верный, все его шаги выполнены правильно, но даны неполные объяснения, или допущена одна вычислительная ошибка	1
Решение не соответствует ни одному из критериев, перечисленных выше	0
<i>Максимальный балл</i>	2

- 24** В параллелограмме  $ABCD$  точка  $E$  – середина стороны  $AB$ . Известно, что  $EC = ED$ . Докажите, что данный параллелограмм – прямоугольник.

Доказательство.

Треугольники  $BEC$  и  $AED$  равны по трём сторонам. Значит, углы  $CBE$  и  $DAE$  равны. Так как их сумма равна  $180^\circ$ , то углы равны  $90^\circ$ . Такой параллелограмм – прямоугольник.



Критерии оценивания выполнения задания	Баллы
Доказательство верное, все шаги обоснованы	2
Доказательство в целом верное, но содержит неточности	1
Решение не соответствует ни одному из критериев, перечисленных выше	0
<i>Максимальный балл</i>	2

- 25** Основание  $AC$  равнобедренного треугольника  $ABC$  равно 12. Окружность радиусом 8 с центром вне этого треугольника касается продолжений боковых сторон треугольника и касается основания  $AC$ . Найдите радиус окружности, вписанной в треугольник  $ABC$ .

Решение.

Пусть  $O$  – центр данной окружности, а  $Q$  – центр окружности, вписанной в треугольник  $ABC$ .

Точка касания  $M$  окружностей делит  $AC$  пополам.

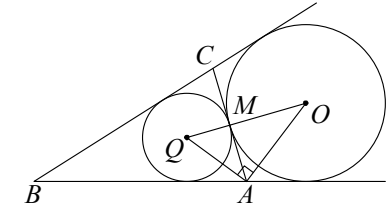
Лучи  $AQ$  и  $AO$  – биссектрисы смежных углов, значит, угол  $OAQ$  прямой.

Из прямоугольного треугольника  $OAQ$  получаем:  $AM^2 = MQ \cdot MO$ .

Следовательно,

$$QM = \frac{AM^2}{OM} = \frac{9}{2} = 4,5.$$

Ответ: 4,5.



Критерии оценивания выполнения задания	Баллы
Ход решения верный, получен верный ответ	2
Ход решения верный, все его шаги присутствуют, но допущена арифметическая ошибка	1
Решение не соответствует ни одному из критериев, перечисленных выше	0
<i>Максимальный балл</i>	2

В соответствии с Порядком проведения государственной итоговой аттестации по образовательным программам основного общего образования (приказ Минпросвещения России и Рособрнадзора от 04.04.2023 № 232/551, зарегистрирован Минюстом России 12.05.2023 № 73292)

«72. Проверка экзаменационных работ включает в себя:

1) проверку и оценивание предметными комиссиями развёрнутых ответов (в том числе устных) на задания КИМ в соответствии с критериями оценивания по соответствующему учебному предмету, разработка которых организуется Рособрнадзором<sup>1</sup> <...>

По результатам первой и второй проверок эксперты независимо друг от друга выставляют первичные баллы за каждый развёрнутый ответ на задания КИМ. <...>

В случае существенного расхождения в первичных баллах, выставленных двумя экспертами, назначается третья проверка. Существенное расхождение в первичных баллах определено в критериях оценивания по соответствующему учебному предмету, разработка которых организуется Рособрнадзором.

Третий эксперт назначается по согласованию с председателем предметной комиссии из числа экспертов, ранее не проверявших экзаменационную работу.

Третьему эксперту предоставляется информация о первичных баллах, выставленных экспертами, ранее проверявшими экзаменационную работу».

Существенными считаются следующие расхождения.

1. Расхождение в баллах, выставленных двумя экспертами за выполнение любого из заданий 20–25, составляет 2 балла. В этом случае третий эксперт проверяет ответы на задания, которые вызвали столь существенное расхождение.

2. Расхождения между суммами баллов, выставленных двумя экспертами за выполнение заданий 20–25, составляет 4 или более балла. В этом случае третий эксперт проверяет ответы на все задания 20–25.

3. Расхождение в результатах оценивания двумя экспертами ответа на одно из заданий 20–25 заключается в том, что один эксперт указал на отсутствие ответа на задание в экзаменационной работе, а другой эксперт выставил за выполнение этого задания ненулевой балл. В этом случае третий эксперт проверяет только ответы на задания, которые были оценены со столь существенным расхождением. Ситуации, в которых один эксперт указал на отсутствие ответа в экзаменационной работе, а второй эксперт выставил нулевой балл за выполнение этого задания, не являются ситуациями существенного расхождения в оценивании.

<sup>1</sup> Часть 14 статьи 59 Федерального закона от 29.12.2012 № 273-ФЗ «Об образовании в Российской Федерации».